

## СПРАВОЧНЫЕ МАТЕРИАЛЫ ПО МАТЕМАТИКЕ

## АЛГЕБРА

- Формула корней квадратного уравнения:

$$x = \frac{-b \pm \sqrt{D}}{2a}, \text{ где } D = b^2 - 4ac.$$

- Если квадратный трёхчлен  $ax^2 + bx + c$  имеет два корня:  $x_1$  и  $x_2$ , то

$$ax^2 + bx + c = a(x - x_1)(x - x_2);$$

если квадратный трёхчлен  $ax^2 + bx + c$  имеет единственный корень  $x_0$ ,

$$\text{то } ax^2 + bx + c = a(x - x_0)^2.$$

- Формула  $n$ -го члена арифметической прогрессии ( $a_n$ ), первый член которой равен  $a_1$  и разность равна  $d$ :

$$a_n = a_1 + d(n - 1).$$

- Формула суммы первых  $n$  членов арифметической прогрессии:

$$S_n = \frac{(a_1 + a_n)n}{2}$$

- Формула  $n$ -го члена геометрической прогрессии  $b_n$ , первый член которой равен  $b_1$ , а знаменатель равен  $q$ :

$$b_n = b_1 q^{n-1}.$$

- Формула суммы первых  $n$  членов геометрической прогрессии:

$$S_n = \frac{(q^n + 1)b_1}{q - 1}.$$

Таблица квадратов двузначных чисел

		Единицы									
		0	1	2	3	4	5	6	7	8	9
Десятки	1	100	121	144	169	196	225	256	289	324	361
	2	400	441	484	529	576	625	676	729	784	841
	3	900	961	1024	1089	1156	1225	1296	1369	1444	1521
	4	1600	1681	1764	1849	1936	2025	2116	2209	2304	2401
	5	2500	2601	2704	2809	2916	3025	3136	3249	3364	3481
	6	3600	3721	3844	3969	4096	4225	4356	4489	4624	4761
	7	4900	5041	5184	5329	5476	5625	5776	5929	6084	6241
	8	6400	6561	6724	6889	7056	7225	7396	7569	7744	7921
	9	8100	8281	8464	8649	8836	9025	9216	9409	9604	9801

Копирование не допускается

## ГЕОМЕТРИЯ

- Сумма углов выпуклого  $n$ -угольника равна  $180^\circ(n-2)$ .
- Радиус  $r$  окружности, вписанной в правильный треугольник со стороной  $a$ , равен  $\frac{\sqrt{3}}{6}a$ .
- Радиус  $R$  окружности, описанной около правильного треугольника со стороной  $a$ , равен  $\frac{\sqrt{3}}{3}a$ .

- Для треугольника  $ABC$  со сторонами  $AB=c$ ,  $AC=b$ ,  $BC=a$ :

$$\frac{a}{\sin A} = \frac{b}{\sin B} = \frac{c}{\sin C} = 2R,$$

где  $R$  — радиус описанной окружности.

- Для треугольника  $ABC$  со сторонами  $AB=c$ ,  $AC=b$ ,  $BC=a$ :

$$c^2 = a^2 + b^2 - 2ab \cos C.$$

- Формула длины  $l$  окружности радиусом  $R$ :

$$l = 2\pi R.$$

- Формула длины  $l$  дуги окружности радиусом  $R$ , на которую опирается центральный угол в  $\varphi$  градусов:

$$l = \frac{2\pi R \varphi}{360^\circ}.$$

- Формула площади  $S$  параллелограмма со стороной  $a$  и высотой  $h$ , проведённой к этой стороне:

$$S = ah.$$

- Формула площади  $S$  треугольника со стороной  $a$  и высотой  $h$ , проведённой к этой стороне:

$$S = \frac{1}{2}ah.$$

- Формула площади  $S$  трапеции с основаниями  $a$ ,  $b$  и высотой  $h$ :

$$S = \frac{a+b}{2}h.$$

- Формула площади  $S$  круга радиусом  $R$ :

$$S = \pi R^2.$$

**Тренировочный экзамен  
по МАТЕМАТИКЕ  
9 класс**

**Вариант по математике № 1**

**Инструкция по выполнению работы**

Тренировочная экзаменационная работа состоит из двух частей, включающих в себя 25 заданий. Часть 1 содержит 19 заданий, часть 2 содержит 6 заданий с развёрнутым ответом.

На выполнение тренировочной экзаменационной работы по математике отводится 3 часа 55 минут (235 минут).

Ответы к заданиям 7, 11 и 13 запишите в бланк ответов № 1 в виде одной цифры, которая соответствует номеру правильного ответа.

Для остальных заданий части 1 ответом является число или последовательность цифр. Ответ запишите в поле ответа в тексте работы, а затем перенесите в бланк ответов № 1. Если получилась обыкновенная дробь, ответ запишите в виде десятичной.

Решения заданий части 2 и ответы к ним запишите на бланке ответов № 2. Задания можно выполнять в любом порядке. Текст задания переписывать не надо, необходимо только указать его номер.

Все бланки заполняются яркими чёрными чернилами. Допускается использование гелевой или капиллярной ручки.

Сначала выполняйте задания части 1. Начать советуем с тех заданий, которые вызывают у Вас меньше затруднений, затем переходите к другим заданиям. Для экономии времени пропускайте задание, которое не удаётся выполнить сразу, и переходите к следующему. Если у Вас останется время, Вы сможете вернуться к пропущенным заданиям.

При выполнении части 1 все необходимые вычисления, преобразования выполняйте в черновике. **Записи в черновике, а также в тексте контрольных измерительных материалов не учитываются при оценивании работы.**

Если задание содержит рисунок, то на нём непосредственно в тексте работы можно выполнять необходимые Вам построения. Рекомендуем внимательно читать условие и проводить проверку полученного ответа.

При выполнении работы Вы можете воспользоваться справочными материалами, выданными вместе с вариантом КИМ. Баллы, полученные Вами за выполненные задания, суммируются. Постарайтесь выполнить как можно больше заданий и набрать наибольшее количество баллов.

Для прохождения порога необходимо набрать не менее 8 баллов, из которых не менее 2 баллов должны быть получены за решение заданий по геометрии (задания 16–19, 23–25).

После завершения работы проверьте, чтобы ответ на каждое задание в бланках ответов № 1 и № 2 был записан под правильным номером.

***Желаем успеха!***

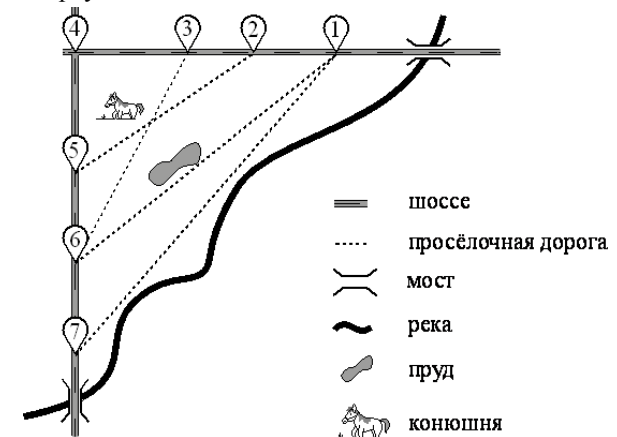
**Часть 1**

***Ответами к заданиям 1–19 являются число или последовательность цифр, которые следует записать в БЛАНК ОТВЕТОВ № 1 справа от номера соответствующего задания, начиная с первой клеточки. Если ответом является последовательность цифр, то запишите её без пробелов, запятых и других дополнительных символов. Каждый символ пишете в отдельной клеточке в соответствии с приведёнными в бланке образцами.***

***Прочитайте внимательно текст и выполните задания 1–5***

На рисунке изображён план сельской местности.

Таня на летних каникулах приезжает в гости к бабушке в деревню Антоновка (на плане обозначена цифрой 1). В конце каникул бабушка на машине собирается отвезти Таню на автобусную станцию, которая находится в деревне Богданово. Из Антоновки в Богданово можно проехать по просёлочной дороге мимо реки. Есть другой путь — по шоссе до деревни Ванютино, где нужно повернуть под прямым углом налево на другое шоссе, ведущее в Богданово. Третий маршрут проходит по просёлочной дороге мимо пруда до деревни Горюново, где можно свернуть на шоссе до Богданово. Четвёртый маршрут пролегает по шоссе до деревни Доломино, от Доломино до Горюново по просёлочной дороге мимо конюшни и от Горюново до Богданово по шоссе. Ещё один маршрут проходит по шоссе до деревни Егорка, по просёлочной дороге мимо конюшни от Егорки до Жилино и по шоссе от Жилино до Богданово. Шоссе и просёлочные дороги образуют прямоугольные треугольники.



По шоссе Таня с дедушкой едут со скоростью 50 км/ч, а по просёлочным дорогам — со скоростью 30 км/ч. Расстояние от Антоновки до Доломино равно 12 км, от Доломино до Егорки — 4 км, от Егорки до Ванютино — 12 км, от Горюново до Ванютино — 15 км, от Ванютино до Жилино — 9 км, а от Жилино до Богданово — 12 км.

1. Пользуясь описанием, определите, какими цифрами на плане обозначены деревни. Заполните таблицу, в бланк ответов перенесите последовательность четырёх цифр без пробелов, запятых и других дополнительных символов.

Деревни	Ванютино	Горюново	Егорка	Жилино
Цифры				

2. Найдите расстояние от Антоновки до Егорки по шоссе. Ответ дайте в километрах.

Ответ: \_\_\_\_\_.

3. Найдите расстояние от Егорки до Жилино по прямой. Ответ дайте в километрах.

Ответ: \_\_\_\_\_.

4. Сколько минут затратят на дорогу Таня с дедушкой из Антоновки в Богданово, если поедут через Доломино и Горюново мимо конюшни?

Ответ: \_\_\_\_\_.

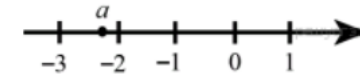
5. На просёлочных дорогах машина дедушки расходует 8,2 литра бензина на 100 км. Известно, что на путь из Антоновки до Богданово через Ванютино и путь напрямик ей необходим один и тот же объём бензина. Сколько литров бензина на 100 км машина дедушки расходует на шоссе?

Ответ: \_\_\_\_\_.

6. Найдите значение выражения  $\frac{21}{5} \div \frac{6}{7}$ .

Ответ: \_\_\_\_\_.

7. На координатной прямой отмечено число  $a$ .



Какое из утверждений относительно этого числа является верным?

- 1)  $-a < 2$       2)  $-1 - a > 0$       3)  $\frac{1}{a} > 0$       4)  $a + 3 < 0$

Ответ:

8. Найдите значение выражения  $\frac{1}{\sqrt{5}-2} - \frac{1}{\sqrt{5}+2}$ .

Ответ: \_\_\_\_\_.

9. Решите уравнение  $(x + 10)(-x - 8) = 0$ . Если уравнение имеет более одного корня, в ответе запишите больший из корней.

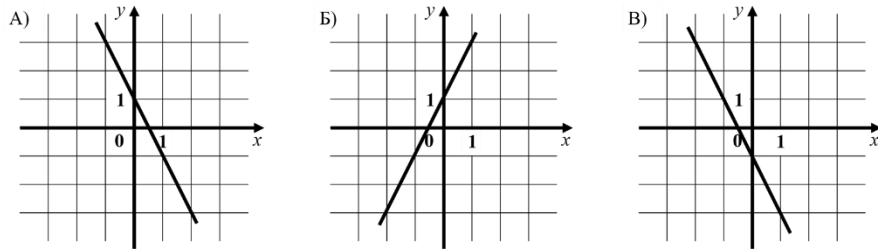
Ответ: \_\_\_\_\_.

10. В фирме такси в данный момент свободно 10 машин: 2 чёрные, 2 жёлтые и 6 зелёных. По вызову приехала одна из машин, случайно оказавшаяся ближе всего к заказчику. Найдите вероятность того, что к нему приедет жёлтое такси.

Ответ: \_\_\_\_\_.

- 11.** Установите соответствие между графиками функций и формулами, которые их задают.

ГРАФИКИ



ФОРМУЛЫ

- 1)  $y = -2x - 1$       2)  $y = -2x + 1$       3)  $y = 2x + 1$

В таблице под каждой буквой укажите соответствующий номер

Ответ:

А	Б	В

- 12.** В фирме «Родник» стоимость (в рублях) колодца из железобетонных колец рассчитывается по формуле  $C = 6000 + 4100n$ , где  $n$  — число колец, установленных в колодце. Пользуясь этой формулой, рассчитайте стоимость колодца из 10 колец. Ответ дайте в рублях.

Ответ: \_\_\_\_\_.

- 13.** Укажите решение неравенства  $6 - 7x \leq 3x - 7$ .

- 1)  $[0, 1; +\infty)$       2)  $(-\infty; 1, 3]$       3)  $[1, 3; +\infty)$       4)  $(-\infty; 0, 1]$

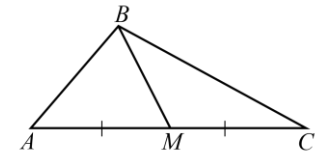
Ответ:

- 14.** Хозяин договорился с рабочими, что они выкопают ему колодец на следующих условиях: за первый метр он заплатит им 3700 рублей, а за каждый следующий метр — на 1700 рублей больше, чем за предыдущий. Сколько рублей хозяин должен будет заплатить рабочим, если они выкопают колодец глубиной 8 метров?

Ответ: \_\_\_\_\_.

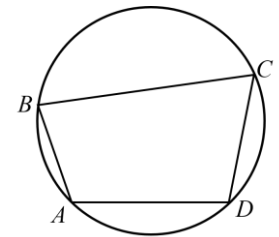
- 15.** В треугольнике  $ABC$  известно, что  $AC = 36$ ,  $BM$  — медиана,  $BM = 13$ . Найдите  $AM$ .

Ответ: \_\_\_\_\_.



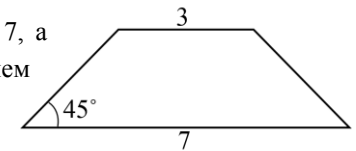
- 16.** Угол  $A$  четырехугольника  $ABCD$ , вписанного в окружность, равен  $112^\circ$ . Найдите угол  $C$  этого четырехугольника. Ответ дайте в градусах.

Ответ: \_\_\_\_\_.



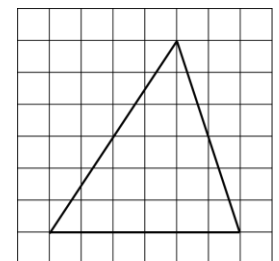
- 17.** В равнобедренной трапеции основания равны 3 и 7, а один из углов между боковой стороной и основанием равен  $45^\circ$ . Найдите площадь этой трапеции.

Ответ: \_\_\_\_\_.



- 18.** На клетчатой бумаге с клетками размером  $1 \times 1$  изображен треугольник. Найдите его площадь.

Ответ: \_\_\_\_\_.



**19.** Какие из следующих утверждений верны?

- 1) Все диаметры окружности равны между собой.
- 2) Угол, вписанный в окружность, равен соответствующему центральному углу, опирающемуся на ту же дугу.
- 3) Любые два равносторонних треугольника подобны.

В ответе запишите номера выбранных утверждений без пробелов, запятых и других дополнительных символов.

Ответ: \_\_\_\_\_.



**Не забудьте перенести все ответы в бланк ответов № 1 в соответствии с инструкцией по выполнению работы. Проверьте, чтобы каждый ответ был записан в строке с номером соответствующего задания.**

## Часть 2

**При выполнении заданий 20–25 используйте БЛАНК ОТВЕТОВ № 2. Сначала укажите номер задания, а затем запишите его решение и ответ. Пишите чётко и разборчиво.**

**20.** Упростите выражение  $\frac{6}{a-1} - \frac{10}{(a-1)^2} \div \frac{10}{a^2-1} - \frac{2a+2}{a-1}$ .

**21.** Туристы проплыли на лодке от лагеря некоторое расстояние вверх по течению реки, затем причалили к берегу и, погуляв 2 часа, вернулись обратно через 6 часов от начала путешествия. На какое расстояние от лагеря они отплыли, если скорость течения реки равна 3 км/ч, а собственная скорость лодки 6 км/ч?

**22.** Постройте график функции  $y = \frac{x-2}{2x-x^2}$  и определите, при каких значениях  $k$  прямая  $y=kx$  имеет с графиком ровно одну общую точку.

**23.** Окружность проходит через вершины  $A$  и  $C$  треугольника  $ABC$  и пересекает его стороны  $AB$  и  $BC$  в точках  $K$  и  $E$  соответственно. Отрезки  $AE$  и  $CK$  перпендикулярны. Найдите  $\angle KCB$ , если  $\angle ABC = 20^\circ$ .

**24.** Биссектрисы углов  $C$  и  $D$  трапеции  $ABCD$  пересекаются в точке  $P$ , лежащей на стороне  $AB$ . Докажите, что точка  $P$  равноудалена от прямых  $BC$ ,  $CD$  и  $AD$ .

**25.** В треугольнике  $ABC$  на его медиане  $BM$  отмечена точка  $K$  так, что  $BK:KM=4:1$ . Прямая  $AK$  пересекает сторону  $BC$  в точке  $P$ . Найдите отношение площади треугольника  $ABK$  к площади четырёхугольника  $KPCM$ .



**Проверьте, чтобы каждый ответ был записан рядом с номером соответствующего задания.**